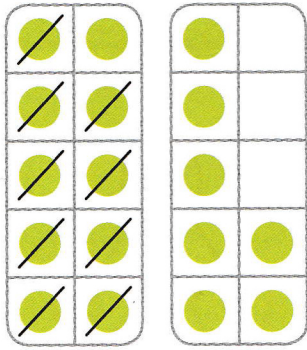
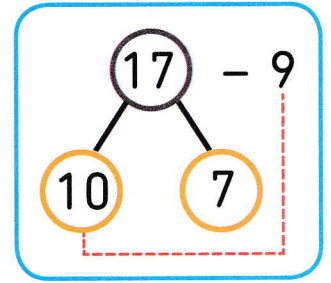



1 Soustrais en décomposant le plus grand nombre.

$17 - 9 = \square$




Soustrais 9 de 10.




2 Complète les égalités.

a) $12 - 5 = \square$



$$\begin{array}{c} 12 - 5 \\ \swarrow \quad \searrow \\ \square \quad \square \end{array}$$

b) $15 - 7 = \square$



$$\begin{array}{c} 15 - 7 \\ \swarrow \quad \searrow \\ \square \quad \square \end{array}$$

3 Complète. Explique tes réponses avec des mots ou un dessin.

a) $16 - 8 = \square$

b) \square est le double de \square .

c) \square est la moitié de \square .